
















Билет № 2
















Задание №1

Выберите из предложенных дорожных знаков те, которые относятся к группе информационных знаков.

 6.17	 1.18	 4.1.1	 6.9.1	 6.18.3	 6.18.1	
 7.11	 7.7	 6.9.2	 6.6	 5.25	 5.24.1	 5.16
 5.18	 1.1					
















Задание №2

Выберите из предложенных дорожных знаков те, которые относятся к группе предписывающих знаков.

 4.2.3	 4.1.4	 4.4	 4.3	 7.10	 7.11	 7.8	 6.9.2
 6.9.1	 6.10.2	 6.18.1	 1.2				
 1.25	 1.28	 3.1					

Задание №3

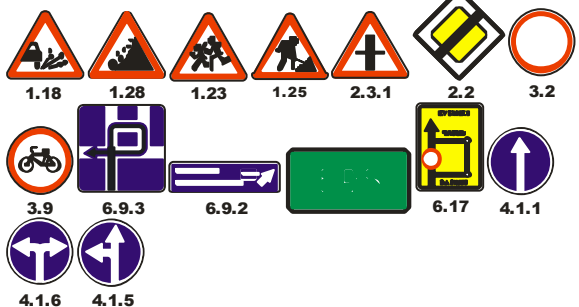

Выберите из предложенных дорожных знаков те, которые относятся к группе знаков сервиса.

 7.8	 7.6	 7.2	 7.1	 7.10	 6.10.2	 6.18.2
 6.13	 6.16	 6.7	 6.11	 6.9.2	 5.17	
 5.26	 4.1.1					

Билет № 3

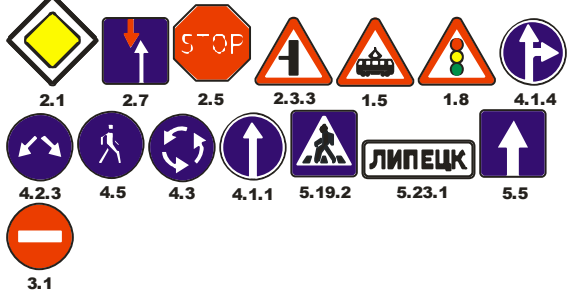
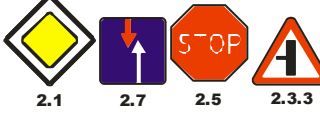
Задание №1

Выберите из предложенных дорожных знаков те, которые относятся к группе предупреждающих знаков.

	
---	--



Задание №2

Выберите из предложенных дорожных знаков те, которые относятся к группе знаков приоритета.

	
--	--

Задание №3

Выберите из предложенных дорожных знаков те, которые относятся к группе знаков особого предписания.

	
---	--